



時 刻 と 時 間


1. つぎの時こくは、なん時なん分でしょう。




()




()




()



()




()



()

2. とけいの みじかいはりが4から7まですすむと、なん時間ですか。

()



3. とけいの ながいはりが 5から12まですすむと、なん分間ですか。

()

